

POPULAÇÃO NA UEA+

CONTROLE			SINALIZADAS		DATA
Q: 20	A:	%:			

QUESTÃO 01 (UEA SIS)

As condições fixadas pela ONU para a concessão desse status são: “qualquer estrangeiro que possua fundado temor de perseguição por motivos de raça, religião, opinião pública, nacionalidade ou por pertencer a grupo social específico e também por aqueles que tenham sido obrigados a deixar seu país de origem devido a uma grave e generalizada violação de direitos humanos”. Sendo assim, o requerente passa a desfrutar dos mesmos direitos dos habitantes locais.

(www.revistaforum.com.br. Adaptado.)

O excerto refere-se ao status de

- a) transumante.
- b) nômade.
- c) anistiado.
- d) colono.
- e) refugiado.

QUESTÃO 02 (UEA SIS 2018)

Exposta em 1798, foi a primeira teoria demográfica de grande repercussão nos meios acadêmicos, políticos e econômicos e até hoje é a mais popular de todas, apesar das falhas que apresenta. Preocupado com os problemas socioeconômicos decorrentes da Revolução Industrial, Malthus expôs sua famosa teoria a respeito do crescimento demográfico. Segundo a teoria, se não ocorressem guerras, epidemias, desastres naturais etc., as populações humanas tenderiam a duplicar a cada 25 anos. Elas cresceriam, portanto, em progressão geométrica (2, 4, 8, 16, 32...). Já o crescimento da produção de

alimentos ocorreria em progressão aritmética (2, 4, 6, 8, 10...).

(Raphael L. M. Fontana et al. “Teorias demográficas e o crescimento populacional no mundo”. In: *Cadernos de graduação*, no 3, março de 2015. Adaptado.)

Considerando o excerto, a teoria malthusiana previa que

- a) as áreas destinadas à produção de alimentos se esgotariam diante do alto crescimento populacional.
- b) o progresso econômico seria o responsável pela disseminação da pobreza que, por sua vez, levaria à falta de planejamento familiar.
- c) o uso de métodos anticoncepcionais em massa nos países subdesenvolvidos reduziria o crescimento populacional.
- d) a fome se perpetuaria devido à má distribuição de alimentos pelo mundo como consequência das desigualdades sociais.
- e) o crescimento populacional exerceria pressão sobre os recursos naturais, o que limitaria a produção de alimentos.

QUESTÃO 03 (UEA 2018)

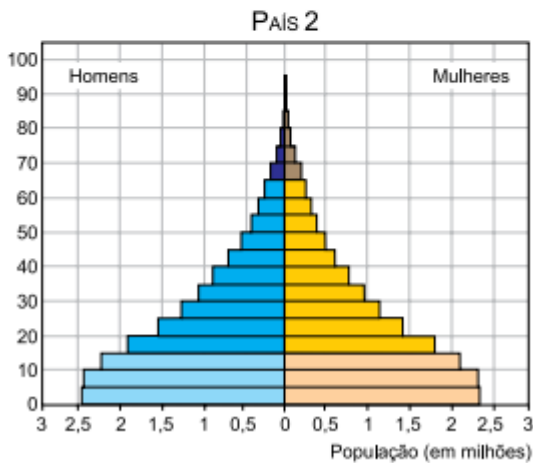
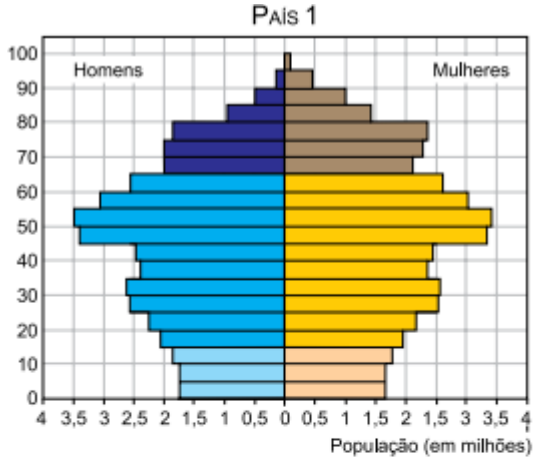
No estudo das populações, a densidade demográfica expressa a média de habitantes por quilômetro quadrado. Um país com elevada densidade demográfica é classificado como

- a) central.
- b) populoso.
- c) periférico.
- d) povoado.
- e) metropolitano.



QUESTÃO 04 (UEA SIS 2016)

As pirâmides etárias expressam o número de habitantes de um país, distribuídos de acordo com o sexo e a idade. Analise as pirâmides etárias dos países 1 e 2.



(United Nations. *World population prospects*, 2015. Adaptado.)

Com base nas pirâmides etárias apresentadas, é correto afirmar que

- a) o país 1 é subdesenvolvido, haja vista o elevado número de jovens.
- b) o país 2 é desenvolvido, haja vista o elevado número de idosos.
- c) o país 1 é desenvolvido, haja vista o predomínio de população adulta.
- d) o país 2 é subdesenvolvido, haja vista a menor taxa de natalidade.
- e) o país 1 é desenvolvido, haja vista a menor expectativa de vida.

QUESTÃO 05 (UEA 2018)

O fluxo migrante denominado de “balseros” corresponde a

- a) cubanos em direção aos Estados Unidos.
- b) magrebinos em direção à Itália.
- c) chineses em direção à Hong Kong.
- d) filipinos em direção à Austrália.
- e) gregos em direção à França.

QUESTÃO 06 (UEA)

Desde, no mínimo, o início dos anos 1960, a disponibilidade calórica mundial é mais que suficiente para alimentar, de maneira correta, todos os habitantes do globo. Hoje, a produção per capita é 18% superior a seu nível de 30 anos atrás.

(Ricardo Abramovay. “A atualidade do método de Josué de Castro e a situação alimentar mundial”. *Revista de economia e sociologia rural*, dezembro de 1996.)

As informações apresentadas pelo excerto constroem um cenário diferente daquele imaginado pela teoria demográfica denominada:

- a) reformista.
- b) neomalthusiana.
- c) malthusiana.
- d) natalista.
- e) transitória.

QUESTÃO 07 (UEA SIS 2014)

Quando encontrarmos vocês, e encontraremos, garantiremos que sejam enviados de volta ao país de onde vieram.

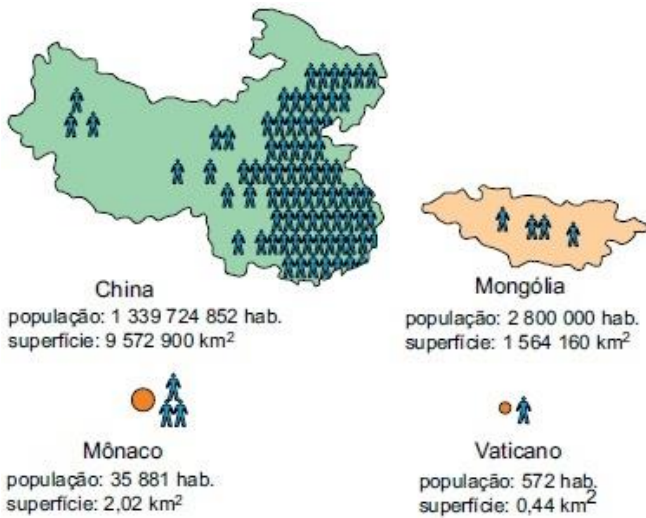
(www.theguardian.com. Adaptado.)

Essa declaração do primeiro-ministro britânico David Cameron explicita o intuito do governo no que diz respeito às políticas

- a) humanitárias à população pobre no Reino Unido.
- b) eugenistas da monarquia britânica.
- c) antiterroristas em domínios da União Europeia.
- d) de controle de imigração ilegal no Reino Unido.
- e) de redução dos direitos do migrante inglês.



QUESTÃO 08 (UEA GERAL 2014)



(Maria E. R. Simielli. *Geoatlas*, 2013. Adaptado.)

A análise da população mundial e sua distribuição espacial permite articular os conceitos demográficos de população absoluta e população relativa. A partir da análise da figura, é correto afirmar que

- a) Mônaco é menos populoso que o Vaticano e mais povoado que a China.
- b) Mônaco é menos populoso que a China e menos povoado que a Mongólia.
- c) a China é mais populosa que a Mongólia e menos povoada que Mônaco.
- d) a Mongólia é mais populosa que Mônaco e mais povoada que o Vaticano.
- e) o Vaticano é menos populoso que Mônaco e menos povoado que a China.

QUESTÃO 09 (UEA SIS 2013)

No final do século XVIII, ao analisar a população dos Estados Unidos da América e da Europa, o economista inglês Thomas Malthus desenvolveu uma teoria demográfica cujo entendimento, séculos depois, ainda é de fundamental importância. Surgiram opiniões e outras teorias a favor e contrárias, como é o caso da teoria demográfica reformista, também denominada de antimalthusiana, segundo a qual, a transição demográfica é possível de ser atingida através de

- a) investimento maciço nas áreas sociais.
- b) políticas de controle de natalidade.

- c) um expressivo fluxo de emigração.
- d) controle de entrada de imigrantes.
- e) contemplação de verbas ao setor secundário.

QUESTÃO 10 (UEA SIS 2012)

Resultante de três indicadores básicos que caracterizam as condições de vida da população, este índice avalia não apenas a riqueza de um país, mas também como o crescimento econômico foi revertido em benefícios sociais para toda a população. Referência na classificação de países e podendo ser calculado para estados e regiões, este índice denomina-se

- a) PIB.
- b) IDH.
- c) GINI.
- d) PEA.
- e) PNB.

QUESTÃO 11 (USS 2020)

Dois professores universitários americanos instalaram gangorras que atravessam a cerca de ferro que separa os Estados Unidos do México. O brinquedo fica em um trecho da fronteira entre El Paso (EUA) e Ciudad Juárez (México) e é uma forma de unir, de maneira "lúdica", os dois países. "O que é feito de um lado tem impacto no outro. E isso é o que a gangorra faz. Exatamente isso", disse o arquiteto Ronald Rael, um dos idealizadores do brinquedo.

Adaptado de g1.globo.com, 30/07/2019.

- a) restrição do tráfico e submissão comercial
- b) combate do terrorismo e desigualdade industrial
- c) redução da criminalidade e dominação financeira
- d) controle da imigração e interdependência econômica



QUESTÃO 12 (ENEM)

O bônus demográfico é caracterizado pelo período em que, por causa da redução do número de filhos por mulher, a estrutura populacional fica favorável ao crescimento econômico. Isso acontece porque há proporcionalmente menos crianças na população, e o percentual de idosos ainda não é alto.


GOIS, A. *O Globo*, 5 abr. 2015 (adaptado).

A ação estatal que contribui para o aproveitamento do bônus demográfico é o estímulo à:

- a) atração de imigrantes.
- b) elevação da carga tributária.
- c) qualificação da mão de obra.
- d) admissão de exilados políticos.
- e) concessão de aposentadorias.

QUESTÃO 13 (FPS)

Observe o gráfico a seguir.



Fonte: www.google.com.br

Esse gráfico permite as seguintes conclusões corretas:

- 1) A fase 1 corresponde a períodos de grandes secas de países africanos e asiáticos, que implicam fortes migrações permanentes.
- 2) A fase 2 é denominada de Aceleração Demográfica, com aumentos significativos da variável Crescimento Vegetativo.

3) A Fase 3, em virtude das expressivas quedas do crescimento vegetativo, enquadra-se perfeitamente na situação de Pré-transição Demográfica.

4) A fase 4 é a de Estabilização da População, na qual a Taxa de Natalidade permanece relativamente uniforme e há um decréscimo do Crescimento Vegetativo.

5) O Brasil encontra-se, desde o início do século XXI, em face da globalização da economia, na fase 1.

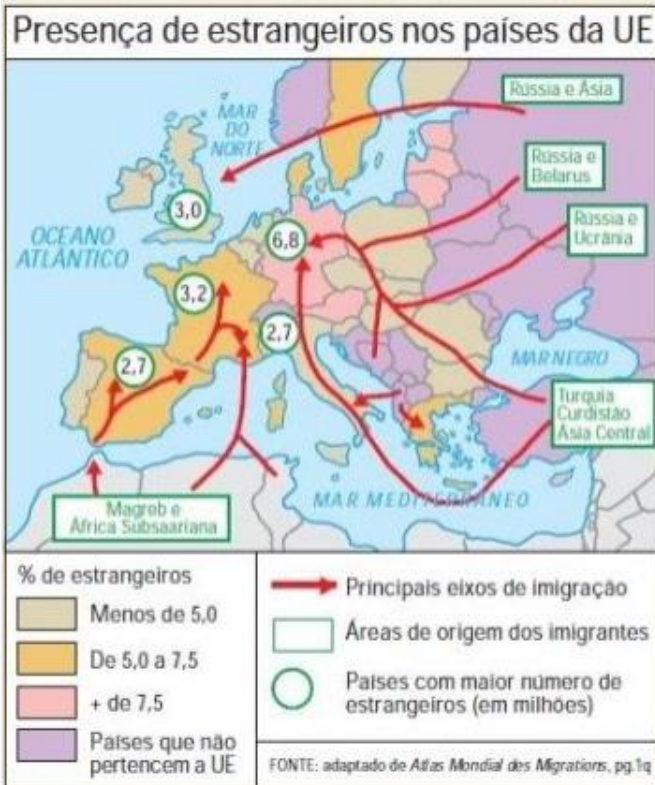
Estão corretas, apenas:

- a) 1 e 2.
- b) 1, 2 e 5.
- c) 1 e 3.
- d) 3, 4 e 5.
- e) 2, e 4.

QUESTÃO 14 (URCA 2019)

OS ESTRANGEIROS NA UNIÃO EUROPEIA

Existem hoje [2010] nos países da UE um pouco mais de 25 milhões de pessoas estrangeiras legalizadas (cerca de 5% da população total do bloco), tanto de origem europeia como não europeia. Na maioria dos países, os estrangeiros não representam mais de 1% da população. Mas há exceções. No microestado de Luxemburgo, 40% das pessoas são estrangeiras, enquanto que na Alemanha, o país da UE com o maior número de estrangeiros (6,8 milhões), essa participação é de 8%. França, Grã-Bretanha, Espanha e Itália são países com o maior número de estrangeiros, depois da Alemanha.



Jornal Mundo nº6, out. 2010

Sobre esse tema, analise as afirmativas a seguir:

1. A onda migratória, observada nos últimos anos, na União Europeia tem sido representada por chineses que buscam melhores oportunidades de trabalho nas fábricas europeias.
2. Do ponto de vista demográfico, os estrangeiros compensam o envelhecimento populacional que apresentam reflexos sobre a economia do bloco europeu.
3. As rígidas políticas migratórias da União Europeia foram os principais motivos para a ocorrência do Brexit, em junho de 2016.
4. O Espaço Schengen, acordo firmado entre alguns países europeus, condiciona a livre circulação de pessoas, mas não reduz a o controle das respectivas fronteiras.
5. O atual ciclo migratório na União Europeia, que teve como principais destinos os países mais ricos do bloco, foi fruto de diversas causas nos países de origem dos estrangeiros.

Estão **CORRETAS**

- a) Apenas 1 e 5.
- b) Apenas 2, 4 e 5.
- c) Apenas 3 e 4.
- d) Apenas 1, 2 e 3.
- e) 1, 2, 3, 4 e 5.

QUESTÃO 15 (PUC PR 2019)

“Algumas pessoas pensam que... perdoem a minha expressão, que, para ser bons católicos, temos de nos reproduzir como coelhos. Não é isso. Ser bom pai é ser responsável. Isso é claro” – respondeu Francisco, citando ter estado com uma mulher ‘irresponsável’ por ter tido sete filhos, todos em cesarianas.

Entidades religiosas e fiéis oriundos de famílias numerosas tomaram as declarações como ofensivas. Diante dos protestos, Francisco voltou ao tema ontem e buscou justificar sua opinião.

“Ouvi dizerem que famílias com muitos filhos são as causas da pobreza. Acho que essa é uma opinião simplista – disse o Papa, destacando que, em vez disso, um sistema econômico excludente ‘é a principal razão para a pobreza [...]’.

Disponível em:

<https://oglobo.globo.com/sociedade/religiao/declaracao-de-papa-levanta-debate-sobre-abertura-da-igreja-metodos-contraceptivos15116079>. Acesso em: 20/07/18 (com adaptações).

O Papa Francisco justifica sua opinião citando, indiretamente, duas teorias demográficas antagônicas, as quais são, respectivamente,

- a) Reformista e Malthusiana.
- b) Marxista e Reformista.
- c) Neomalthusiana e Reformista.
- d) Malthusiana e Neomalthusiana.
- e) Reformista e Neomalthusiana.

QUESTÃO 16 (UCPEL 2018)

Os estudos e apontamentos sobre o crescimento, a diminuição e a estabilização dos quantitativos populacionais em todo o mundo analisam dinâmicas sistematizadas nas teorias demográficas.

Sobre as teorias demográficas é correto afirmar que

- a) o baixo crescimento vegetativo provoca uma taxa de natalidade alta e uma expectativa de vida longa. Com isso, as populações tendem a se estabelecer, favorecendo a chamada População



Economicamente Ativa (PEA), responsável pelo trabalho e pelos processos produtivos, além da manutenção das contas previdenciárias.

b) a teoria neomalthusiana preconizava que o número de pessoas aumentava conforme uma progressão geométrica (2,4,8,16, 32, 64, ...), enquanto a produção de alimentos e bens de consumo crescia conforme uma progressão aritmética, portanto, mais lenta (2, 4, 6, 8, 10, 12, ...). Assim, para evitar a ocorrência de grandes tragédias sociais, defendia o “controle moral” da população.

c) a teoria malthusiana afirmava que era necessário estabelecer um controle do crescimento populacional e defendia o uso de métodos contraceptivos. Com isso, foi amplamente adotado como política de governo por parte de inúmeros países, incluindo o Brasil, que passaram a estabelecer políticas de controle sobre o aumento de seus habitantes.

d) para a teoria da transição demográfica, em geral, as populações tendem a diminuir à medida que as condições sociais melhoram e o número de mortes diminui, diminuindo o crescimento vegetativo. Por esse motivo, a transição demográfica demonstra que, com o tempo, as populações que crescem em um período tendem a estabilizar-se posteriormente, à medida que as sociedades modernizam-se.

e) para a teoria reformista ou marxista não era o excesso populacional o responsável pelas condições de miséria e pobreza no espaço geográfico, mas sim as desigualdades sociais, como a concentração de renda no contexto da produção capitalista.

QUESTÃO 17 (União Atenas 2017)

China acaba com a política do filho único e permitirá 2 crianças por casal

O Partido Comunista da China anunciou nesta quinta-feira (29/10/2015) o fim da política do filho único, permitindo que agora cada casal tenha até dois filhos.

O anúncio foi feito na reunião anual do partido. Todos os casais do país poderão agora ter dois filhos, uma reforma que põe fim a mais de 30 anos da política que limitava os nascimentos no país.

Disponível:

<http://g1.globo.com/mundo/noticia/2015/10/china-acabacom-politica-do-filho-unico-e-permitira-dois-filhos-por-casal.html> acesso: 23 de julho de 2016

Com relação ao tema e as teorias demográficas, assinale a afirmativa **CORRETA**.

a) A chamada teoria Malthusiana afirmava que os recursos naturais cresceriam a uma velocidade superior à população, resultando num quadro de fome em massa, no final do século passado.

b) Para os neomalthusianos, a queda da mortalidade não tem efeito se não for seguida do aumento da taxa de fecundidade, pois impediria o crescimento econômico do país.

c) Para os neomalthusianos os problemas ambientais globais são resultados do crescimento populacional acelerado.

d) A redução da natalidade, motivada pelas políticas demográficas, em médio prazo, leva à carência de mão-de-obra, ocasionando graves prejuízos à economia dos países onde ocorre.

e) O decréscimo no ritmo de crescimento da população urbana não resulta, sobretudo, da mudança de padrões comportamentais da sociedade.

QUESTÃO 18 (ACAFE 2021)

“A população brasileira está desigualmente distribuída pelo território: ainda existe uma nítida oposição, que reflete os efeitos do processo de colonização e de povoamento do território, entre as regiões litorâneas e interioranas, as primeiras densamente povoadas, e as segundas de ocupação rarefeita”.

THÉRY, Hervé; THÉRY, Neli Aparecida de Mello. Atlas do Brasil. 2 ed. São Paulo: Edusp, 2014. p. 89.

A respeito da temática levantada pela citação acima, assinale a alternativa correta.



- a) Apenas a partir dos anos 1990, quando a população urbana Brasileira passa a ser maior que a rural, a concentração populacional nas áreas litorâneas torna-se mais nítida.
- b) De acordo com a citação acima é possível afirmar que o Brasil é um país muito populoso e muito povoado.
- c) De acordo com a citação acima é possível afirmar o Brasil é um país muito povoado, mas pouco populoso.
- d) A citação acima se relaciona ao fato de a alta concentração populacional, no litoral, ter contribuído com a diminuição da área originalmente coberta por Mata Atlântica.

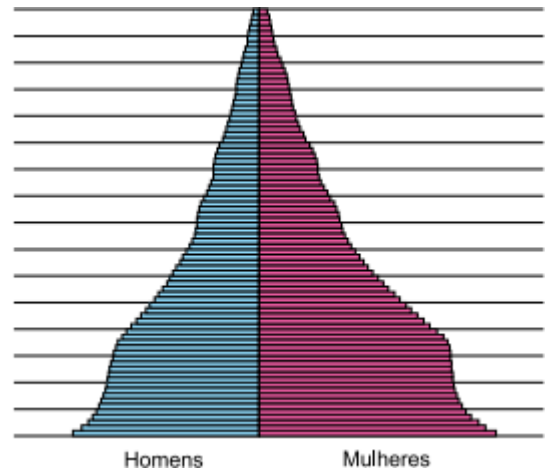
QUESTÃO 19 (UNESP 2020)

O processo de desmetropolização, observado no Brasil desde o final do século XX, é caracterizado

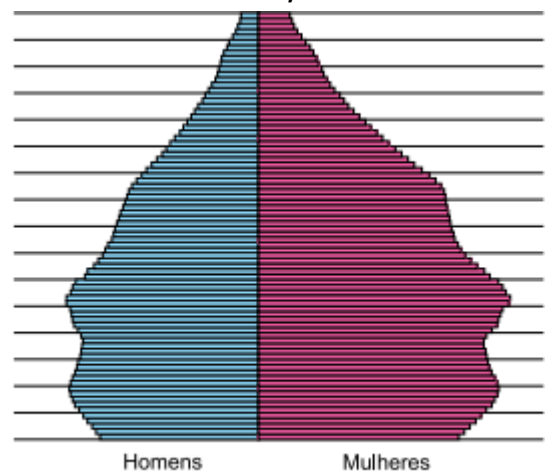
- a) pela retração do setor terciário diante dos movimentos urbanos de compartilhamento de bens e serviços.
- b) pelo conflito jurídico na regulação do solo urbano, como resultado da conurbação entre as cidades.
- c) pelo registro de maior crescimento populacional em cidades médias, quando comparado ao das metrópoles.
- d) pela redução das manchas metropolitanas como resultado de uma saturação populacional.
- e) pela fragmentação de metrópoles em sub-regiões, para otimizar recursos financeiros e administrativos.

QUESTÃO 20 (FCMSCSP)

BRASIL, 1980



BRASIL, 2010



(<https://ibge.gov.br>. Adaptado.)

A análise das pirâmides etárias permite afirmar que, nesse período, entrou em curso no Brasil o processo de

- a) transição demográfica, com a queda das taxas de fecundidade e de mortalidade.
- b) explosão demográfica, com o repentino aumento das taxas de natalidade e de fecundidade.
- c) crescimento vegetativo negativo, com o aumento da expectativa de vida e da taxa de natalidade.
- d) bônus demográfico, com a queda da população economicamente ativa e a elevação da expectativa de vida.
- e) envelhecimento populacional, com a queda da população economicamente inativa e o aumento da taxa de mortalidade.



GABARITO

1E, 2A, 3C, 4C, 5A, 6C, 7D, 8C, 9A, 10B, 11D, 12C, 13E, 14B,
15C, 16E, 17C, 18D, 19C, 20A

