

URB → POP URBANA → POP. RURAL

PSC 2017

Qual das alternativas a seguir está INCORRETA, quando se trata de processo de urbanização?

a) O conceito de megacidade foi estabelecido pelo Instituto Brasileiro de Geografia e Estatística (IBGE) para definir uma área formada por mais de 10 milhões de habitantes, que ocupam uma faixa urbana contígua, como é o caso da cidade de São Paulo, na América do Sul.

b) Em locais como Calcutá e Pequim, o aumento do processo de urbanização torna propícia uma aceleração demográfica ainda maior. A previsão de organizações internacionais é de que estas cidades aglomerem mais pessoas e protagonizem os

postos de maiores índices populacionais ao longo das próximas décadas.

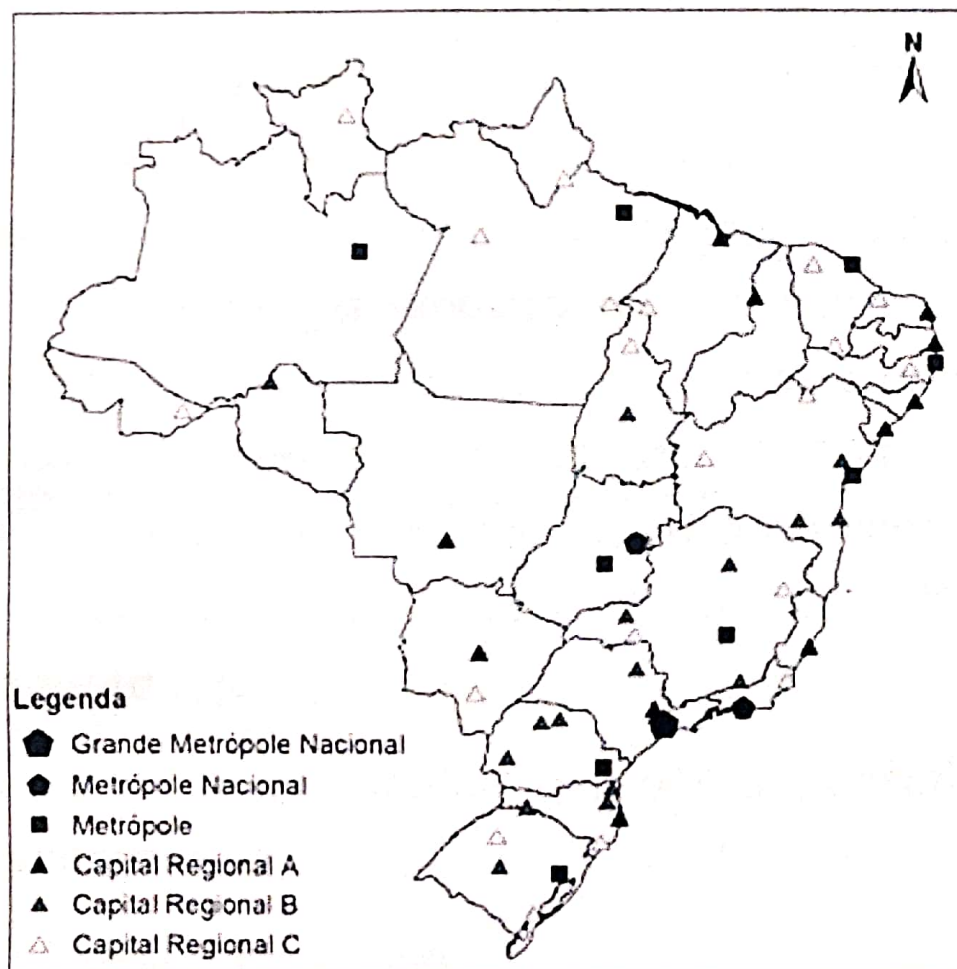
c) Em um país como o Japão, onde existem limitações territoriais e geográficas muito específicas, que resultam na disposição de pouco espaço para abrigar milhões de pessoas, a conurbação é muito comum, sendo a capital Tóquio considerada a maior megacidade do mundo.

d) Uma boa parte das megacidades está localizada em países subdesenvolvidos e emergentes; dentre elas, se encontram Nova Déli e Mumbai, na Índia, seguidas pela Cidade do México. Todas essas cidades se encontram em países que experimentaram urbanizações recentes.

e) Cabe às megacidades dos países periféricos vencer vários desafios impostos pelo acelerado processo de urbanização. Dentre estes se podem enunciar: melhorar a infraestrutura básica (saneamento básico, vias de transporte), garantir a mobilidade urbana, conter a expansão de suas periferias, desacelerar o crescimento demográfico e o saldo migratório.

ENEM 2018

O critério que rege a hierarquia urbana é a



BRASIL. IBGE. Regiões de influência de cidades 2007. Rio de Janeiro: IBGE, 2008 (adaptado).

- a) existência de distritos industriais de grande porte.
- b) importância histórica dos centros urbanos tradicionais.
- c) centralidade exercida por algumas cidades em relação às demais.
- d) proximidade em relação ao litoral das principais cidades brasileiras.
- e) presença de sedes de multinacionais potencializando a conexão global.

ENEM 2019

O consumo da habitação, em especial aquela dotada de atributos especiais no espaço urbano, contribui para o entendimento do fenômeno¹, pois certas áreas tornam-se alvos de operações comerciais de prestígio com a produção e/ou a renovação de construções, diferente de outras porções da cidade, dotadas de menor infraestrutura. SANTOS, A. R. O consumo da habitação de luxo no espaço urbano parisiense. Confins, n. 23, 2015 (adaptado).

O conceito que define o processo descrito denomina-se

a) escala cartográfica.

b) conurbação metropolitana.

c) território nacional.

☒ d) especulação imobiliária.

e) paisagem natural.

PSC 2016^{-BR}

Observe a figura a seguir e responda:

I. Os valores apontados no gráfico traduzem a migração cidade-campo e este processo está ligado à urbanização no Brasil

II. Na segunda metade do século 20, o Brasil tornou-se um país urbano, ou seja, mais de 50% de sua população passou a residir nas cidades.

III. Urbanização reflete o aumento proporcional da população urbana em relação à população rural.

IV. A concentração das indústrias no eixo Rio/São Paulo proporcionou desenvolvimento industrial acelerado que necessitava de

grande quantidade de mão de obra para trabalhar nas unidades fabris.

Assinale a alternativa que apresenta a sequência correta para Verdadeiro (V) e Falso (F):

a) I (F); II (V); III (F); IV (F)

b) I (F); II (F); III (F); IV (V)

☒ c) I (F); II (V); III (V); IV (V)

d) I (V); II (V); III (F); IV (V)

e) I (V); II (F); III (F); IV (F)

BRASIL URBANO → 1970

~ HISTÓRICO

x OCUPAÇÃO → LITORÂNEA

↳ comunicação com
METRÓPOLE

~ INTERIO RIZAÇÃO

- DRUGAS DO SEPTÃO
- PECUÁRIA
- MINERAÇÃO

~ SÉC XIX ~ CRESC. POPULACIONAL

SÉC XX → CONSOLIDAÇÃO

↳ CRESCIMENTO

E ACONTECIMENTO

DA URBANIZAÇÃO

^ ÊXODO RURAL

SAÍDA EM
MASSA

* CONCENTRAÇÃO
DE TERRAS

x FALTA DE
ESTRUTURA

// → LEIS TRABA.

1964

/ REV. VERDE INDUSTRIALIZAÇÃO

CIDADE

EMPREGO EM
LARGA

ESCALA

GETÚLIO INSTALA

LEIS TRABALHISTAS

↳ 1930-1964

CLT

CONCENTRADA

NO EIXO

SUDESTE

→ PÓS 2ª GUERRA MUNDIAL

↳ PELO GUERRA FRIA

EUA → NOVA D.T-T

↳ MÃO DE OBRA

MERCADO

CONSUMIDOR

• J.K. → PLANO DE METAS

↳ 50 ANOS EM 5

→ INDÚSTRIA INTERNACIONAL

↳ URBANIZAÇÃO

↳ ESPECULAÇÃO → NO CAMPO
IMOBILIÁRIA

→ AUTOMOBILÍSTICAS

URBANIZAÇÃO BRASILEIRA

HISTÓRICO ~ COLÔNIA

EXPLORAÇÃO

↳ SEMELHANÇA

com EMERGENTES

INDÚSTRIA → URBANO

CAFÉ

* POP. URBANA NO BRASIL

1: SUDESTE

2: CENTRO-OESTE

3: SUL

4: NORTE

5: NORDESTE

ATÉ 1950 → RURAL


A PARTIR DE 1970 → URBANO

EXÔDO RURAL

↳ P/O URBANO

↳ 1ª REVOL. INDUSTRIAL

~> CONURBAÇÃO



ENEM 2018

Foi-se o tempo em que era possível mostrar um mundo econômico organizado em camadas bem definidas, onde grandes centros urbanos se ligavam, por si próprios, a economias adjacentes “lentas”, com o ritmo muito mais rápido do comércio e das finanças de longo alcance. Hoje tudo ocorre como se essas camadas sobrepostas estivessem mescladas e interpermeadas. Interdependências de curto e longo alcance não podem mais ser separadas umas das outras. BRENNER, N. A globalização como reterritorialização. Cadernos Metrópole, n. 24, jul.-dez. 2010 (adaptado).

A maior complexidade dos espaços urbanos contemporâneos ressaltada no texto explica-se pela

- a) expansão de áreas metropolitanas.
- b) emancipação de novos municípios.
- c) consolidação de domínios jurídicos.
- d) articulação de redes multiescalares.
- e) redefinição de regiões administrativas.

ENEM 2013

O servo pertence à terra e rende frutos ao dono da terra. O operário urbano livre, ao contrário, vende-se a si mesmo e, além disso, por partes. Vende em leilão 8,10,12,15 horas da sua vida, dia após dia, a quem melhor pagar, ao proprietário das matérias-primas, dos instrumentos de trabalho e dos meios de subsistência, isto é, ao capitalista. MARX, K. Trabalho assalariado e capital & salário, preço e lucro. São Paulo: Expressão Popular, 2010.

O texto indica que houve uma transformação dos espaços urbanos e rurais com a implementação do sistema capitalista, devido às mudanças tecnossociais ligadas ao

- a) desenvolvimento agrário e ao regime de servidão.
- b) aumento da produção rural, que fixou a população nesse meio.
- c) desenvolvimento das zonas urbanas e às novas relações de trabalho.
- d) aumento populacional das cidades associado ao regime de servidão.
- e) desenvolvimento da produção urbana associada às relações servis de trabalho.

ENEM 2021

A expansão das cidades e a formação das aglomerações urbanas no Brasil foram marcadas pela produção industrial, e pela consolidação das metrópoles como locais de seu desenvolvimento. Na segunda metade do século XX, as metrópoles brasileiras estenderam-se por áreas de ocupação contínua, configurando densas regiões urbanizadas. MOURA.R. Arranjos

urbano-regionais no Brasil: especificidades e reprodução de padrões. Disponível em: [www.http://www.ub.edu](http://www.ub.edu). Acesso em: 11 fev. 2015

O resultado do processo geográfico descrito foi o(a)


- a) valorização da escala local.
- b) crescimento das áreas periféricas.
- c) densificação do transporte ferroviário.
- d) predomínio do planejamento estadual.
- e) inibição de consórcios intermunicipais.

PSC 2016

Encarando-se a mobilidade espacial da população sob a ótica da localização rural e urbana, entre os anos 40 e 80 houve uma verdadeira inversão das duas.

SCARLATO, F.C. População e urbanização brasileira. In: Geografia do Brasil, SP: EDUSP, 2008.

Uma das causas que estimularam a fuga da população do campo para a cidade nesse período foi a: = EXODO

a) grande saturação no mercado de trabalho rural 

b) a substituição da lavoura por atividades exclusivamente extrativas minerais

c) falta de modernização da produção rural

d) disponibilidade de recursos para a ocupação de novos territórios urbanos.

e) ampliação das relações capitalistas no campo, desestruturando as antigas relações tradicionais de trabalho (a parceria, o arrendamento, etc.).